

Олимпиада школьников по географии
Задания школьного этапа для 11 класса
в 2024/2025 учебном году

Уважаемый участник олимпиады! Вашему вниманию предлагаются задания тестового и теоретического туров, на выполнение которых отводится 60 минут (на тестовый тур – 30 минут и теоретический – 30 минут).

Тестовое задание включает 30 вопросов, каждый из которых содержит несколько элементов ответов и оценивается определенным количеством баллов (от 1 до 3 баллов). Общая оценка ответов на вопросы тестового тура представляет собой сумму баллов за отдельный вопрос и максимально составляет 50 баллов.

Теоретический тур включает 3 задания различной степени сложности. Каждый элемент заданий оценивается определенным количеством баллов (от 1 до 3 баллов). Максимальное количество баллов за правильные ответы составляет 50 баллов.

При ответах на вопросы тестового тура и заданий теоретического тура запрещается пользоваться географическими картами, атласами, словарями и справочными материалами.

Тестовый тур

1. Автором гипотезы происхождения Земли из холодного газопылевого облака был

- а) А. Вегенер
 б) В. И. Вернадский
 в) М. В. Ломоносов
 г) О. Ю. Шмидт

2. Какой материк планеты был открыт и исследован позже других?

- а) Австралия
 б) Южная Америка
 в) Антарктида
 г) Северная Америка

3. Выберите правильное соответствие между озером и материком.

- а) оз. Танганьика – Северная Америка
 б) оз. Титикака – Евразия
 в) оз. Чад – Африка
 г) оз. Верхнее – Южная Америка

4. В каком, из перечисленных заливов соленость поверхностных вод наибольшая?

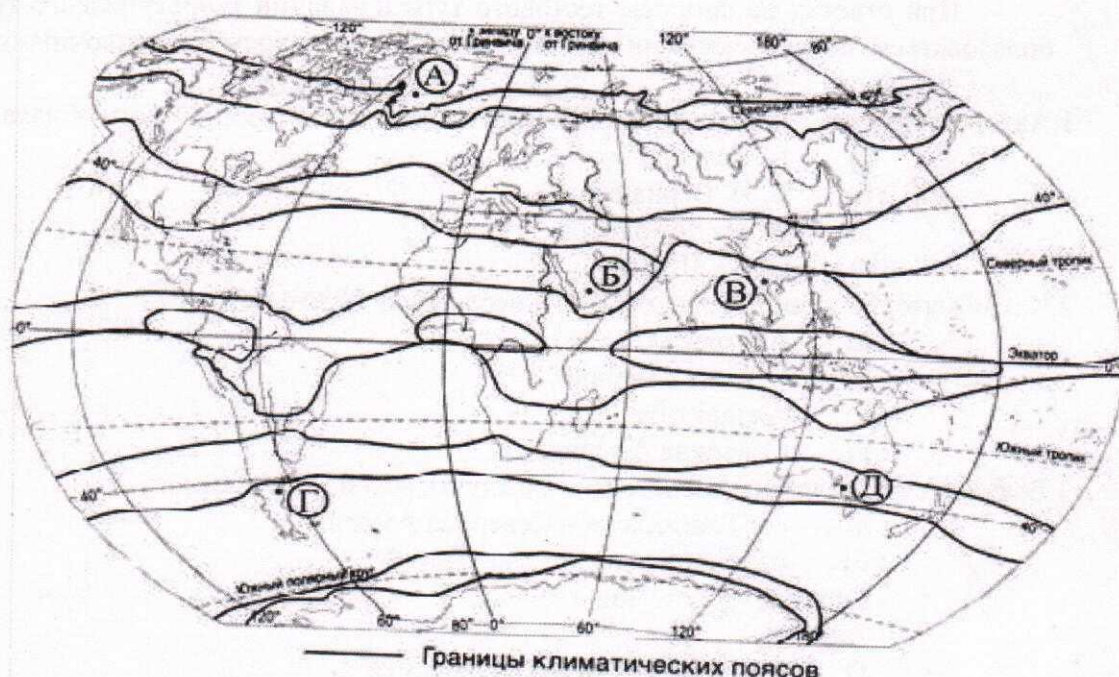
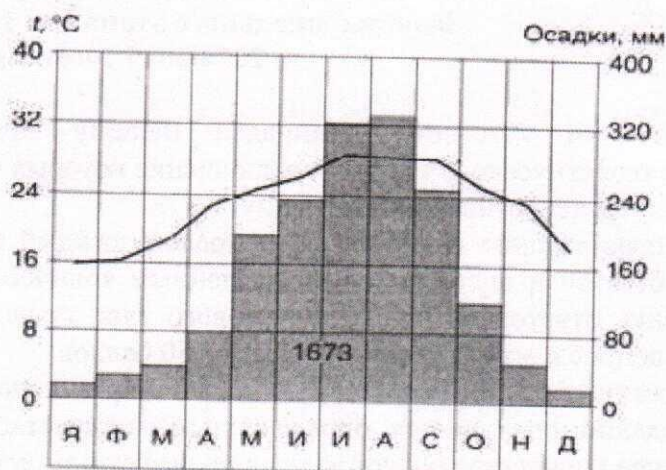
- а) Персидский
 б) Мексиканский
 в) Финский
 г) Бенгальский

5. Какое из следующих утверждений верно?

- а) Циклон – это атмосферный вихрь с замкнутой областью повышенного давления
 б) В циклонах движение воздуха происходит от центра к периферии
 в) Самый влажный материк – Южная Америка
 г) Самый сухой материк – Африка

6. Проанализируйте климатограмму и определите, какой буквой на карте климатических поясов обозначен пункт, климат которого показан на климатограмме.

В 1



7. На территории каких из перечисленных стран разрушительные землетрясения наименее вероятны?

- а) Канада
 б) Польша
 1 в) Турция
 г) Индонезия

8. Сельвой в Южной Америке называют природную зону

- а) экваториальных лесов
 1 б) степей
 в) пустынь и полупустынь
 г) саван и редколесий

9. Какие два из перечисленных государств имеют самую высокую плотность населения?

- а) Финляндия
 2 б) Сингапур
 в) Монако
 г) Канада

10. Найдите ошибку в перечне экспортеров зерна на мировой рынок

- а) США
 б) Канада

1. ☒ в) Япония
г) Франция
11. Назовите три преобладающих вида мелиорации в черноземной полосе России.
а) орошение и обводнение
б) осушение
1. ☒ в) мероприятия против овражной эрозии
1. ☒ г) посадка лесополос
12. Какие три страны являются лидерами по густоте автомобильных дорог?
а) Сингапур
б) Бельгия
3. ☒ в) Япония
г) Канада
13. Лесная и деревообрабатывающая промышленность является отраслью международной специализации
а) США и Канады
1. ☒ б) Канады и Алжира
в) Китая и Японии
г) Японии и Канады
14. Молочное скотоводство является отраслью специализации в
а) Дания
0. ☒ б) Испания
в) Греция
г) Турция
15. Страны, лидирующие в мире по поголовью крупного рогатого скота - это ...
а) США
1. ☒ б) Индия
в) Китай
г) Бразилия
16. Какая из перечисленных стран является лидером по производству бананов
0. ☒ а) Тайланд
б) Индия
в) Аргентина
г) Перу
17. В какой стране одновременно выращивают и сахарную свеклу, и сахарный тростник?
1. ☒ а) Мексика
б) Гондурас
в) США
г) Куба
18. Отраслевым международным объединением является
а) Ассоциация стран Юго-Восточной Азии (АСЕАН)
2. ☒ б) Европейский союз (ЕС)
в) Организация стран экспортеров нефти (ОПЕК)
г) Латиноамериканская ассоциация интеграции (ЛАИ)
19. Выберите две страны, лидирующие по тоннажу морского торгового флота.
0. ☒ а) США и Китай
б) Индия и Япония
в) Норвегия и Канада
г) Панама и Либерия
20. Выберите из представленного ниже списка танкерную судоходную компанию – лидера по выручке.

- (a) Euronav. (Бельгия)
- 0 б) Scorpio Tankers Inc. (Монако)
- в) Tsakos Energy Navigation. (Греция)
- г) Teekay Corp. (Бермуды)

21. Первый экономический переворот в истории человечества произошел...

- (a) при переходе от собирательства к производящему хозяйству
- б) при научно-технической революции во всех сферах хозяйственной деятельности
- 1 в) при демографическом взрыве
- г) при всестороннем использовании ресурсов Мирового океана

22. Наиболее существенными из последствий антропогенного вмешательства в жизнь нашей планеты являются следующие:

- а) количественное и качественное истощение всех видов природных ресурсов, загрязнение природной среды и разрушение естественных природных ландшафтов
- 0 б) истощение всех видов природных ресурсов, глобальное потепление климата и технологические аварии
- в) разрушение естественных природных ландшафтов, дефицит демократии и усиление управляемости мировым сообществом
- г) глобальное потепление климата, технологические аварии и усиление управляемости мировым сообществом

23. Осознание глобальных экологических проблем привело к экологизации экономического развития в промышленно развитых странах и выразилось в следующем:

- а) увеличении затрат государства и монополий на охрану окружающей среды, увеличении выбросов вредных веществ в атмосферу, возникновении экоиндустрии и экобизнеса, усилении международной координации в области охраны окружающей среды
- 1 б) возникновении экоиндустрии и экобизнеса, увеличении затрат государства и монополий на охрану окружающей среды, формировании системы законов и организаций по защите среды, усилении международной координации в области охраны окружающей среды
- в) формировании системы законов и организаций по защите среды, возникновении экоиндустрии и экобизнеса, усилению загрязнения вод Мирового океана, усилении международной координации в области охраны окружающей среды
- г) усилении международной координации в области охраны окружающей среды, создании системы законов на разрешение выбросов в атмосферу парниковых газов, возникновении экоиндустрии и экобизнеса, координации усилий мирового сообщества на рост народонаселения

24. Все глобальные природно-экономические проблемы человечества относятся к...

- (a) экологическим, энергетическим, продовольственным, сырьевым
- 1 б) экологическим, охране здоровья, урбанизации, межнациональным отношениям
- в) экологическим, энергетическим, кризису культуры, дефициту демократии
- г) продовольственным, сырьевым, урбанизации, охране здоровья

25. Катастрофическая экологическая ситуация характеризуется:

- 1 (a) необратимостью изменения природы, утратой природных ресурсов, угрозой жизни людей, утратой генофонда и уникальных природных объектов
- б) необратимостью изменения природной среды, угрозой жизни людей, преодолением отсталости слаборазвитыми странами
- в) отсутствием терроризма и преступности, освоением космического пространства
- г) дефицитом демократии, преодолением отсталости слаборазвитыми странами, предотвращением ядерной войны и сохранением мира на Земле

25
26. Соответствие регионов России экологическим проблемам, вызванным антропогенным воздействием:

1. Район озера Байкал А 1	а) загрязнение вод и атмосферы, нарушение режима особо охраняемых природных территорий
2. Новая Земля Г 0	б) нарушение земель горными разработками, утрата продуктивных земель, деградация лесных массивов
3. Промышленная зона Урала Б 1	в) радиоактивное загрязнение г) деградация естественных кормовых угодий, дефляция почв

27. Нарастание глобальной экологической напряженности в мире проявляется в таких социальных последствиях глобального масштаба, как:

1 а) росте заболеваемости населения, особенно в городах, недостатке продовольственных ресурсов в мире, экологических миграциях населения по всему земному шару и экологической агрессии

б) росте заболеваемости населения, особенно в городах, недостатке продовольственных ресурсов в мире, сохранении природного потенциала территорий и изменении природных законов окружающего мира

в) экологических миграциях населения по всему земному шару в условиях обострившихся экологических конфликтов, экологической агрессии и усилении способности экосистем к самовосстановлению

г) росте заболеваемости населения, особенно в городах, недостатке продовольственных ресурсов в мире, экологических миграциях населения по всему земному шару и росте ресурсов сельскохозяйственного производства

28. По описанию определите страну.

3 Эта Африканская страна была в прошлом французской колонией, а сейчас она - член ОПЕК, один из крупных экспортеров нефти и газа. Это одна из немногих стран, название которой совпадает с названием столицы. Алжир

29. Сель - грязевой или грязекаменный поток, внезапно формирующийся в руслах горных рек в результате ливней, бурного таяния ледников и снега. В каком из перечисленных регионов существует наибольшая опасность для жизни людей при проявлении этого природного явления?

3 а) Ямало-Ненецкий автономный округ

б) Астраханская область

в) Республика Северная Осетия

г) Калининградская область

30. Определите, о каком объекте рельефа идет речь в следующем описании. На территории какого субъекта Российской Федерации находится данная форма рельефа? Какая тектоническая структура лежит в ее основании? О какой реке идет речь в описании?

0 В основании этого высокого «Камня» на этом плато, который находится на высоте 1700 м, лежат вулканические породы триасового периода. Реки, берущие здесь начало, впадают в самую многоводную реку России. Одним из источников их питания служат обильные осадки (до 1000 мм в год), выпадающие на наветренных склонах. При средних температурах января: $-32^{\circ} \dots -37^{\circ}\text{C}$ и июля: $+8^{\circ} \dots +12^{\circ}\text{C}$ на плато преобладают кустарничковые и мохово-лишайниковые тундры с вкраплениями редколесий и даурской лиственницы.

Астраханская область, — , река Волга

Теоретический тур

Задание 11.1. Рассмотрите внимательно рисунок с представленными озерами и ответьте на вопросы в таблице. Ответы запишите в таблице 11.1.




Таблица 11.1 Максимальное количество баллов – 12.

Вопросы	Ответы	Кол-во баллов
1. Название озер	А. Онежское — Б. Ладожское — В. — Г. —	
2. Максимальная глубина	А. 700 м — Б. 800 м — В. — Г. —	
3. Происхождение озерных котловин	А. — Б. — В. — Г. —	

Задание 11.2. Установите соответствие между понятием и его определением, заполните таблицу 11.2.

185

Понятия	Определения
1. Авторитаризм А 0	а) Система власти, характерная для антидемократических политических режимов. Обычно сочетается с личной диктатурой.
2. Апартеид (расизм) В 3	б) Истребление отдельных групп населения по расовым, национальным, этническим, религиозным или иным признакам, а также умышленное создание жизненных условий, рассчитанных на полное или частичное физическое уничтожение этих групп населения.
3. Геноцид Б 3	в) Крайняя форма расовой дискриминации. Означает лишение определенных групп населения в зависимости от расовой принадлежности политических и гражданских прав, вплоть до территориальной изоляции.
4. Демократия Г 3	г) Форма государственно-политического устройства общества, основанная на признании народа в качестве источника власти.
5. Диктатура А —	д) Осуществление власти в государстве недемократическими методами; авторитарный политический режим.
6. Доминион Е 3	е) Государства в составе Британской империи, признавшие главой английского короля.
7. Кондоминиум Ж 3	ж) Совладение, совместное осуществление верховной власти над одной и той же территорией двумя или несколькими государствами.
8. Ассоциированное государство З 3	з) Форма конфедерации из объединившихся на двусторонней основе неравнозначных государств, при которой меньшее государство, формально сохраняя суверенитет и независимость, доверяет значимую часть своих властных полномочий большему государству (это внешняя политика, связь, транспорт, вооруженные силы).

Таблица 11.2 Максимальное количество баллов – 24. (по 3 балла за каждый правильный ответ)

Вопрос	Установите соответствие между понятием и его определением								Кол-во баллов
Понятия (цифры)	1	2	3	4	5	6	7	8	
Определения (буквенные обозначения)	А	В	Б	Г	А	Е	Ж	З	185

Задание 11.3. Внимательно изучите профиль, выполненный через крупный природный комплекс Азиатской части России.

Ответьте на вопросы и результаты запишите в таблице 11.3:

1. Как называется природный район России, куда входят природные комплексы, изображенные на профиле?
2. К какой складчатости относятся изображенные на профиле природные комплексы?
3. Назовите основные факторы, влияющие на количество высотных поясов в горах.

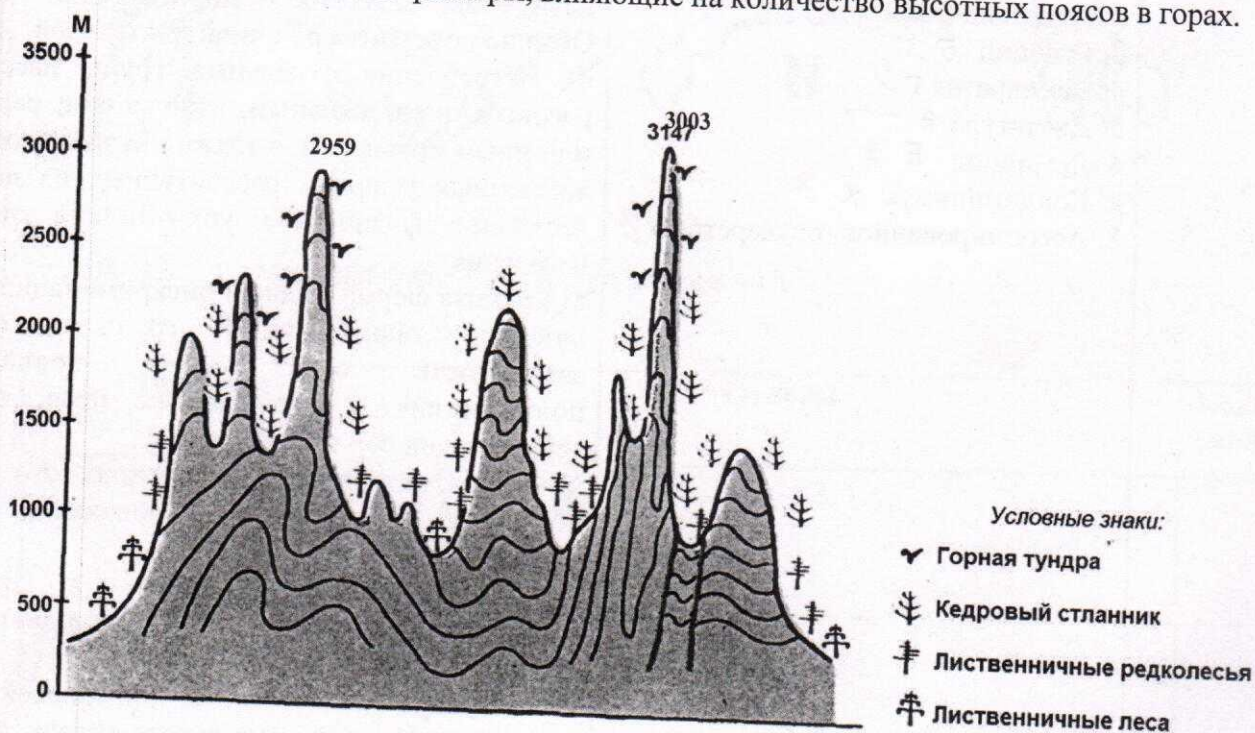


Таблица 11.3

Максимальное количество баллов – 14 баллов.

Вопрос	Ответ	Кол-во баллов
1. Как называется природный район России, куда входят природные комплексы, изображенные на профиле?	Алтай	
2. К какой складчатости относятся изображенные на профиле природные комплексы?		
3. Назовите основные факторы, влияющие на количество высотных поясов в горах.	Высота гор	